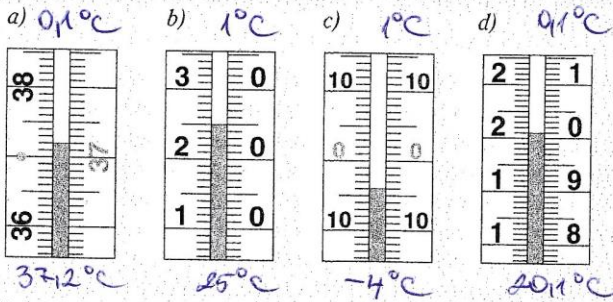
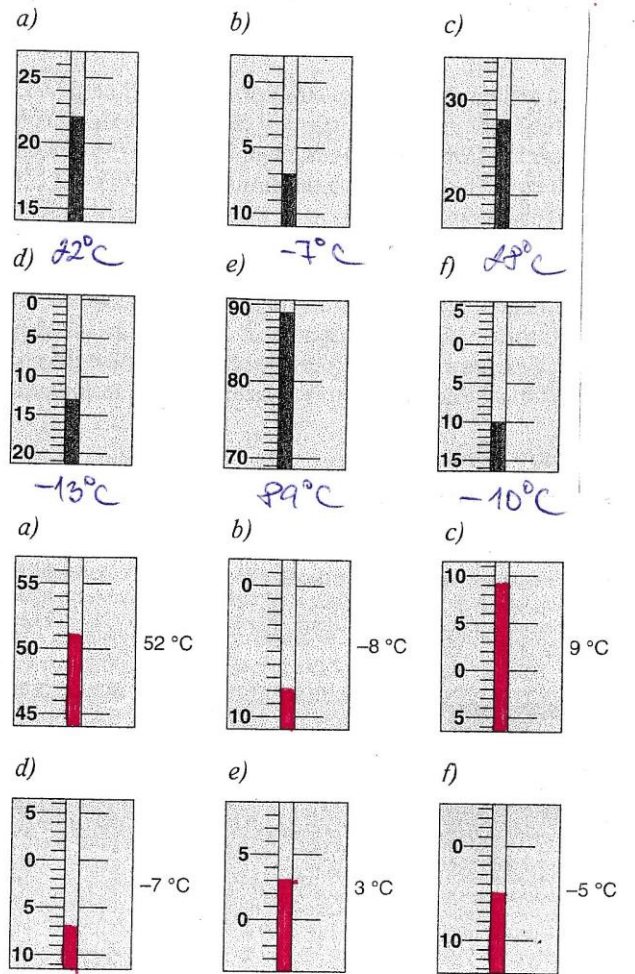
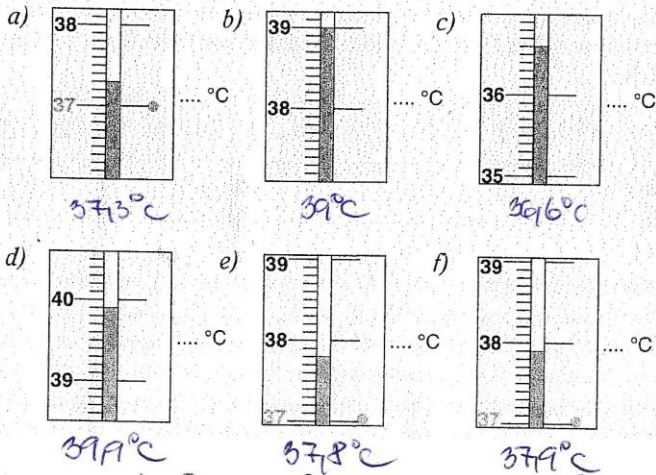


- a) Jaké změně teploty v Celsiových stupních odpovídá jeden dílek na jednotlivých stupnicích (obr. 2.46)?
 b) Přečti teplotu na stupnicích jednotlivých teploměrů a zapiš ji do sešitu.



3. Zapiš do sešitu hodnoty teploty podle obr. 2.47 naměřené lékařským teploměrem.

Obr. 2.47



Při nejasnostech mi napište na e-mail slovackova@9zszlin.cz

Mějte se hezky ☺

Slováčková